

Matematika

4. ročník

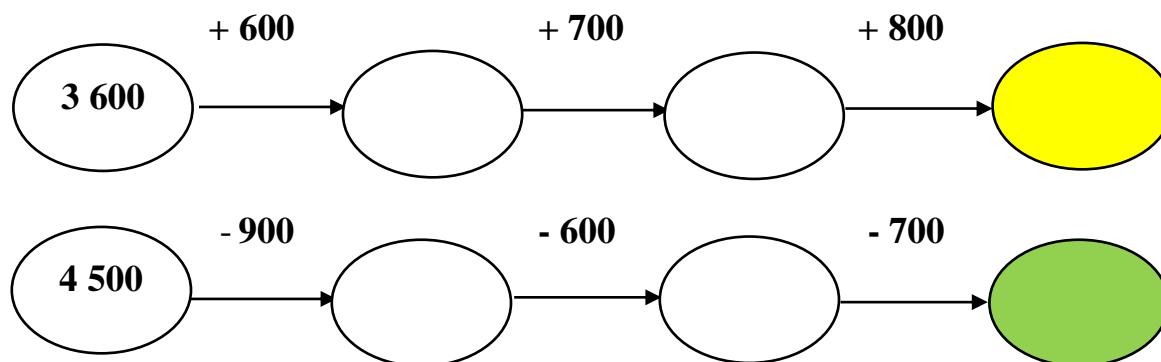
Sčítanie a odčítanie v obore do 10 000

1. Sčítaj.

$985 - 196 =$	<input type="text"/>
$611 - 258 =$	<input type="text"/>
$925 - 478 =$	<input type="text"/>
$602 - 308 =$	<input type="text"/>
$551 - 58 =$	<input type="text"/>
$431 - 284 =$	<input type="text"/>

$167 + 258 =$	<input type="text"/>
$558 + 358 =$	<input type="text"/>
$565 + 278 =$	<input type="text"/>
$705 + 195 =$	<input type="text"/>
$228 + 255 =$	<input type="text"/>
$675 + 236 =$	<input type="text"/>

2. Vyrieš.



3. Doplň do tabuľky.

	+2 700	
1 020	<input type="text"/>	
3 450	<input type="text"/>	
5 008	<input type="text"/>	
4 300	<input type="text"/>	

	- 3 400	
5 000	<input type="text"/>	
6 500	<input type="text"/>	
3 710	<input type="text"/>	
8 400	<input type="text"/>	

Matematika

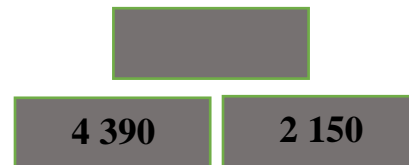
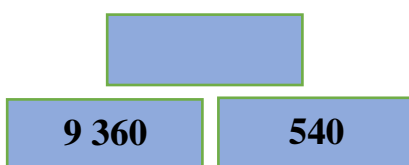
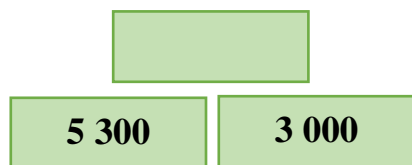
4. ročník

4. Usporiadaj čísla od najväčšieho po najmenšie.

3 500, 5 600, 1 800, 4 200, 2 900

--	--	--	--	--

5. Doplň chýbajúce čísla v sčítacích pyramídach.



6. Prečítaj a vyfarbi štvorciferné číslo.



7. Vyplň tabuľky.

+

6 122	1 450	
2 280	5 327	

-

8 250	4 100	
1 580	630	