


Naša krajina – Slovensko

Meno.....

1. Naša trieda má označenie (zakrúžkuj správnu odpoveď): 1. A 2. A 3. A 2. D
2. Naša škola je postavená na ulici: a) Športová ulica b) Kalinčiakova ulica c) ulica
3. Obec , kde chodím do školy sa volá: a) Košice b) Bratislava c) Slovensko
4. Časť územia zakresľujeme: a) na tabuľu b) do plánu c) na lavicu
5. Plán územia nám slúži: a) na lepšiu orientáciu b) na vymaľovanie c) na cvičenie
6. Krajina je: a) časť územia, ktorú vidíme v okolí
b) časť územia, ktorú sme si nakreslili
c) časť územia, ktorú nevidíme
7. Pozoruj na obrázkoch, ako sa počas roka mení krajina. Pod obrázok napíš ročné obdobie.

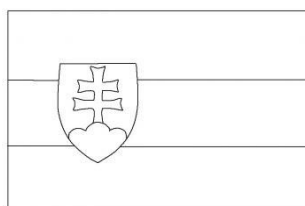


8. Napíš, ako sa volá štát, v ktorom žijeme:

9. Na čele nášho štátu je: a) zástupca b) riaditeľ c) prezident

10. Pomenuj štátne symboly – vyfarbi len štátny znak.

štátna



štátny



11. Ktorými slovami začína štátna hymna?

a) Ponad Tatrou blýska sa... b) Nad Tatrou sa blýska ... c) Pod Tatrou blýska sa ...

Ako môže vyzeráť krajina

1. Doplň do viet slová pod textom.

Krajinu vytvorila p....., alebo ju zmenil č

svojim zásahom. Príroda vytvorila l....., r....., v..... .

Človek vytvoril c....., d....., ž..... .


Krajiny podľa povrchu sú r..... s rovným povrchom,

sady, polia a h..... s vrchmi, horami, skalami.

Naša krajina je

/vrchy, rovinaté, domy, príroda, lesy, človek, hornaté, rieky, cesty,
železnice/

2. Spoj obrázok s typom krajiny.



rovinatá



hornatá