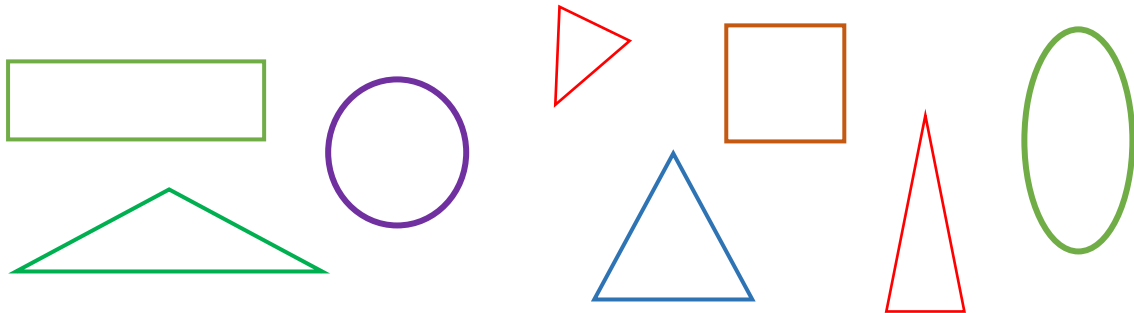


Matematika

2. ročník

Rovinný geometrický útvar- trojuholník

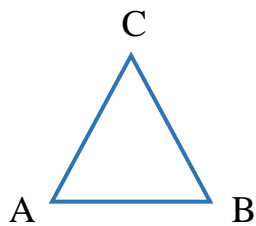
1. Z nasledujúcich rovinných geometrických tvarov vyber všetky **trojuholníky** a zakrúžkuj ich :



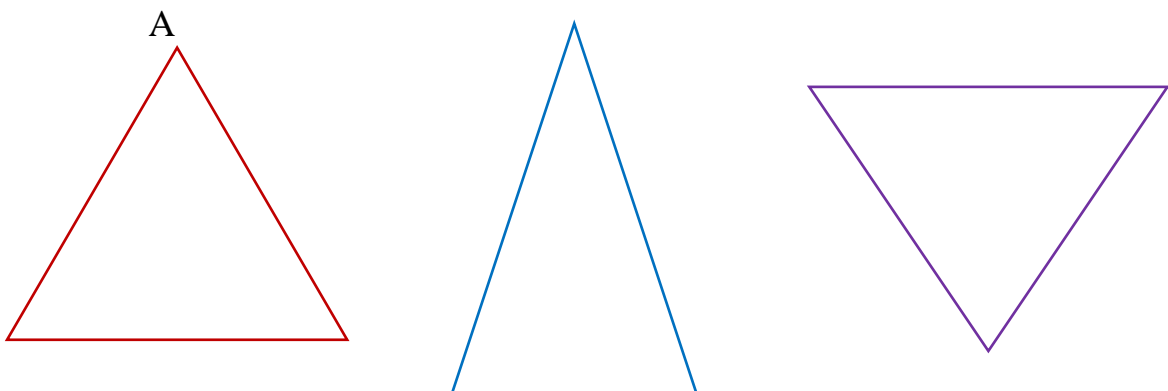
2. V nasledujúcom trojuholníku sú vyznačené veľkými tlačnými písmenami tri časti trojuholníka : **A B C**

Tieto písmená **A B C** označujú **vrcholy** trojuholníka.

A takto označený trojuholník sa nazýva **trojuholník ABC**.



Označte vrcholy na nasledujúcich trojuholníkoch, použite body **A B C**.



3. Podľa vlastnej predstavy dokonč obrázok. Môžeš použiť len trojuholníky.
Potom obrázok vyfarbi.

